

ESQUEMA DE LA UNIDAD 4

LA POBLACIÓN MUNDIAL

1. La población en el mundo

- La población
- La densidad de población

2. El crecimiento natural de la población

- Natalidad
- Mortalidad
- Esperanza de vida

3. Los movimientos migratorios

- Migraciones

4. El estudio de la población

- Sexo
- Edad
- Profesión:
 - Población activa:
 - Sector Primario
 - Sector Secundario
 - Sector Terciario
 - Población inactiva:
 - Estudiantes
 - Jubilados

UNIDAD 4 LA POBLACIÓN MUNDIAL



1. LA POBLACIÓN EN EL MUNDO

La **población** es el número de habitantes que viven en un lugar.



La **población** se distribuye por el territorio de forma muy desigual. La mayor parte de la población mundial (90%) se concentra en el Hemisferio Norte.

La **densidad de población** es el número de habitantes que hay por kilómetro cuadrado.

Actividades

1. La población es el número de _____ que _____ en un lugar.
2. La mayor parte de la _____ se concentra en el _____.
3. ¿Cómo se distribuye la población en el mundo?

2. EL CRECIMIENTO NATURAL DE LA POBLACIÓN.

La **natalidad** es el número de niños y niñas que nacen en un lugar.



La **mortalidad** es el número de personas que mueren en un lugar.



La **esperanza de vida** es el número de años que puede esperar vivir una persona que acaba de nacer.

Actividades

1. Escribe cada palabra en su lugar: mortalidad, natalidad y esperanza de vida.

-Número de niños y niñas que nacen en un lugar:

-Número de años que puede esperar vivir una persona que acaba de nacer _____

-Número de personas que mueren en un lugar

2. ¿Qué es la natalidad?

3. ¿Qué es la mortalidad?

4. ¿Por qué crees que aumenta la esperanza de vida?

5. Completa estas frases:

La natalidad es el número de _____ que nacen en un lugar.

La mortalidad es el número de _____ que mueren en un lugar.

La esperanza de vida es el número de _____ que espera vivir una persona que acaba de nacer.

En los países **ricos** (desarrollados):

- Nacen pocos niños
- La mujer trabaja fuera de la casa
- Los niños van al colegio

En los países **pobres** (subdesarrollados):

- Nacen muchos niños

- La mujer no trabaja fuera de la casa
- Los niños trabajan desde pequeños y no van al colegio
- Las personas pasan hambre

Actividades

1. Completa estas frases:

En los países ricos nacen _____
niños.

La mujer trabaja en los países _____

En los países pobres nacen _____
niños.

Las mujeres no trabajan en los países _____

Los niños _____ trabajan y no van al
colegio.

2. ¿Cuántos niños nacen en los países ricos?

3. ¿Y en los países pobres?

4. ¿Los niños de los países ricos van al colegio?

5. ¿Y en los países pobres los niños trabajan?

¿Qué piensas de esto?

3. LOS MOVIMIENTOS MIGRATORIOS.

Las migraciones son los movimientos de las personas de unos países a otros. Llamamos emigrantes a las personas que van a vivir de un lugar a otro.

Actividades

1. ¿Qué son las migraciones?

2. ¿A nuestro país llegan emigrantes?

3. ¿Por qué crees que se va la gente de su país?

4. Mira las fotos del libro de la pág. 80. ¿Qué está pasando?

5. Localiza en el mapa del mundo los movimientos migratorios.

4. EL ESTUDIO DE LA POBLACIÓN

La población de cada territorio varía debido a:

- El sexo
- La edad
- Profesión

1. El **sexo**: el número de hombres no es igual al número de mujeres en ningún grupo humano.

2. Hay tres grupos de **edades**: los **jóvenes**, los **adultos** y los **ancianos**.

3. En cuanto a la profesión la población de un país se divide en:

- **Población activa**: es la que está en edad de trabajar.

Ejemplos:



Cocinero



Granjero

- **Población inactiva**: está formada por jubilados y estudiantes.



Jubilada



Estudiante

La población activa puede trabajar en tres sectores:


- **Primario:** agricultura, ganadería, pesca y minería.

Agricultura:



Agricultor

Ganadería:



Cerdo



Vaca

- **Secundario:** industria y construcción.



- **Terciario (servicios):** sanidad, educación, comercio, seguridad ...



Policía

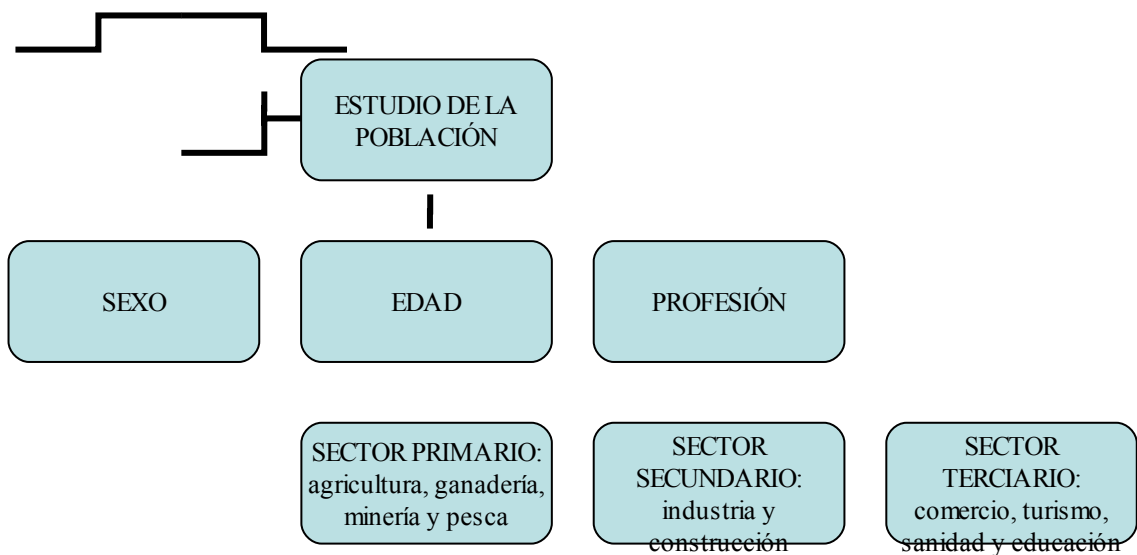


Juez



Profesora

EL ESTUDIO DE LA POBLACIÓN



Actividades

1. La población _____ es la que está en edad de trabajar.

2. La población _____ es aquella que, por edad o por incapacidad, no puede trabajar.

3. ¿A qué grupo de población (activa o inactiva) pertenecen los trabajadores?

4. ¿Y los jubilados en que grupo de población se incluyen?

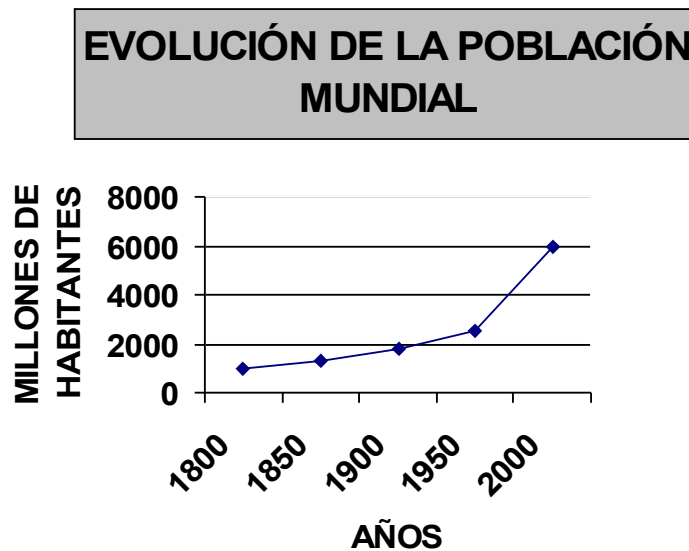
5. ¿Qué profesión tiene tu padre?

¿A qué sector económico pertenece esa profesión?

6. ¿Y un profesor en qué sector económico se incluye?

7. ¿Qué trabajadores forman parte del sector primario? _____

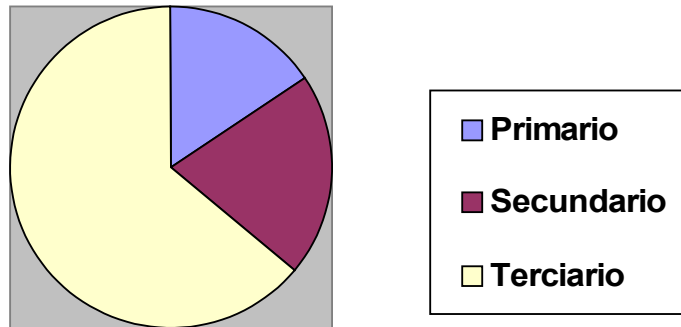
8. Observa este gráfico de población.



- Según este gráfico ¿cuántos millones de habitantes había en el mundo en el año 1900 y en el año 2000? _____
- ¿Aumenta o disminuye la población entre el año 1900 y el año 2000? _____

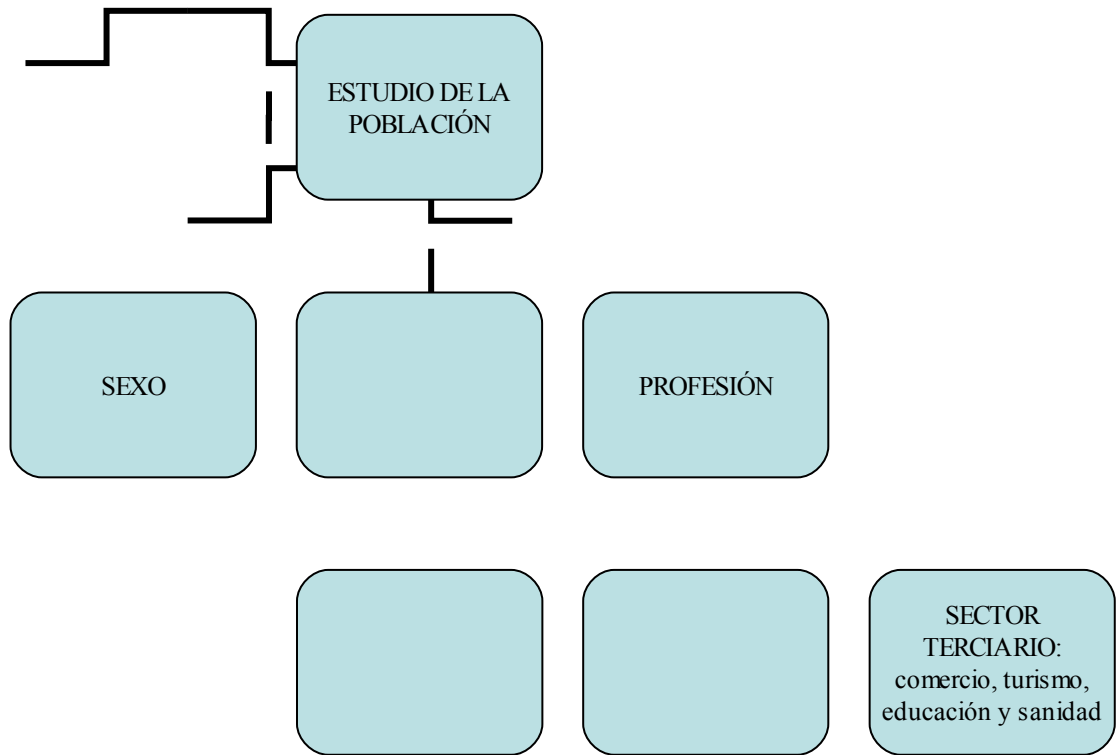
9. Observa ahora este sector circular de la población activa de Granada en el año 2002.

**Sectores económicos de Granada
en el 2002 (miles de habitantes)**



- ◆ ¿De qué color se representa en el gráfico el sector secundario? _____
- _____
- ◆ ¿Qué sector es el más grande? _____
- _____
- ◆ ¿En qué sector hay más trabajadores? _____
- _____

10. Completa el mapa conceptual del estudio de la población.



Repaso del vocabulario

Población:

Natalidad:

Mortalidad:

Esperanza de vida:

Población activa:

Población inactiva:

Sector primario:

Sector secundario:

Sector terciario:

PRUEBA ESCRITA DE LA UNIDAD 4

Nombre del alumno:

Fecha:

1. La **población** es el _____ que viven en un lugar.

2. La **natalidad** es el número de _____ que nacen en un lugar.

3. La **mortalidad** es el número de _____ que mueren en un lugar.

4. Las **migraciones** son los _____ de las personas de unos _____ a otros.

5. **Población activa:** es la que está en _____

6. La población _____ es aquella que, por edad o por incapacidad, no puede trabajar.

7. ¿Qué trabajadores forman parte del sector primario?

8. En los países ricos nacen _____
niños.

9. Las mujeres no trabajan en los países

10. ¿Los niños de los países pobres van al colegio?
